

Adı:

DOĞAL SAYILAR ÜNİTESİ



Soyadı:

Ritmik Saymalar

Sınıf: 2- B No:

1. 65'ten başlayarak geriye doğru beşer ritmik saydığımızda aşağıdaki tabloda boş yerlere sırasıyla hangi sayılar gelmelidir?

65	60	55		45
20	25		35	40
15		5		

- A) 55 - 50 - 45 B) 50 - 30 - 10
C) 50 - 30 - 15

2. 12'den başlayıp 40'a kadar dörder ritmik sayalım. 4. sırada hangi sayıyı söyleriz?

- A) 12 B) 24 C) 28
Çözüm:

3. 15'ten başlayarak üçer ritmik sayma yapan bir öğrenci 5. sırada hangi sayıyı söyler?

- A) 27 B) 30 C) 24
Çözüm:

6 ⇒ 9 ⇒ 12 ⇒ 15 ⇒ □ ⇒ 21

4. Yukarıda 6'dan başlayarak üçer ritmik sayma yapılmıştır. Boş bırakılan yere hangi sayılar gelmelidir?

- A) 17 B) 18
C) 19

5. 2-B sınıfındaki öğrenciler sıralara ikişer oturmaktadır. Sınıfta 9 sıra olduğuna göre 2-B sınıfında kaç öğrenci vardır?

- A) 18 B) 20 C) 22

Çözüm:

6. Zeynep ip atlarken üçer üçer sayıyor. Zeynep 6 defa atladığına göre en son hangi sayıyı söylemiştir?

- A) 9 B) 15 C) 18

Çözüm:

7. Ali, 5'ten başlayarak 45'e kadar beşer ritmik sayıyor. Ali kaç tane sayı söyler?

- A) 45 B) 9 C) 10

Çözüm:

8. 30'a kadar üçer ritmik saydım.

Deniz, saymayı bitirdiğinde hangi sayıyı söylememiştir?


- A) 21 B) 12 C) 25


Çözüm:


9. Onar ritmik sayan biri hangi sayıyı söyler?

- A) 20 B) 80 C) 65

1 0. Öğrencilerden hangisi ikişer ritmik sayma yapmıştır?

A)  : 45 - 50 - 55 - 60 - 65

B)  : 66 - 68 - 70 - 72 - 74

C)  : 18 - 21 - 24 - 27 - 30

1 1. 12 - 16 - 20 - 24 - 28



Pepe kaçar ritmik sayma yapmıştır?

A) dörder B) üçer C) ikişer

1 2. 3 - 6 - 9 - 12 - 16 - 18 - 21



Temel Reis, üçer ritmik sayma yapmış. Ama sanırım bir hatası var.

Temel Reis'in yanlış yazdığı sayı hangisidir?

A) 12 B) 16 C) 18

1 3. Aşağıdakilerden hangisinde geriye doğru üçer ritmik sayma yapılmıştır?

A) 22 - 20 - 18 - 16 - 14 - 12


B) 24 - 20 - 16 - 12 - 8 - 4


C) 21 - 18 - 15 - 12 - 9 - 6


1 4. 40'tan geriye doğru dörder ritmik sayma yapan bir öğrenci hangi sayıyı söylemez?

A) 40 B) 24 C) 13

1 5. Arkadaşlarımızdan hangisi geriye ikişer saymayı yanlış yapmıştır?

A)  : 36 - 34 - 32 - 30 - 28

B)  : 24 - 22 - 21 - 20 - 19

C)  : 88 - 86 - 84 - 82 - 80

1 6. Aşağıdaki alıştırmaları yapalım.

* 20'den başlayarak 46'ya kadar ikişer ritmik sayıp yazalım:

.....

* Üçer ritmik sayıp yazalım:

.....

* Dörder ritmik sayıp yazalım:

.....

Aferin sana!

Şimdi de biraz dinlendikten sonra aşağıdaki görevi yap.

Matematik işlem defterine;

* İkişer, beşer ve onar 1 00'e kadar,

* Üçer 30'a kadar,

* Dörder 40'a kadar,

* 1 00'den geriye ikişer, beşer ve onar

* 30'dan geriye üçer,

* 40'tan geriye dörder yaz bakalım.